


Thứ ... ngày ... tháng ... năm ...


# TOÁN

## BÀI 22: PHÉP TRỪ (CÓ NHỚ) SỐ CÓ HAI CHỮ SỐ VỚI SỐ CÓ MỘT CHỮ SỐ



# Yêu cầu cần đạt

- Thực hiện phép trừ (có nhớ) số có hai chữ số với số có một chữ số.
- Nhận biết được ý nghĩa thực tiễn của phép trừ thông qua tranh vẽ, hình ảnh.
- Giải bài toán bằng một phép tính liên quan.



# KHỞI ĐỘNG





$$12 + 18 = ?$$



**Đáp án: 30**





$$43 + 47 = ?$$

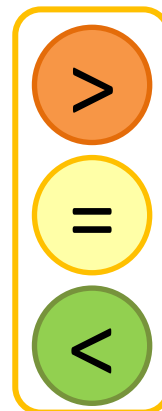


**Đáp án: 90**





# Điền dấu



$$23 + 38 \stackrel{?}{=} 62$$

61



KHẨM

PHẢ



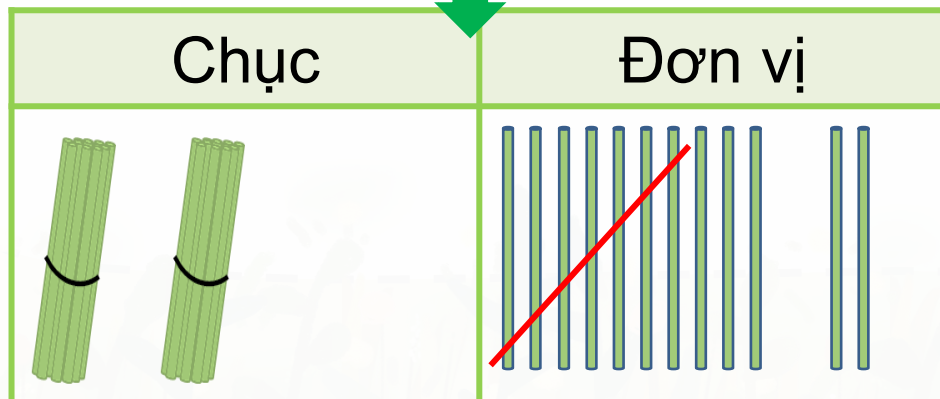
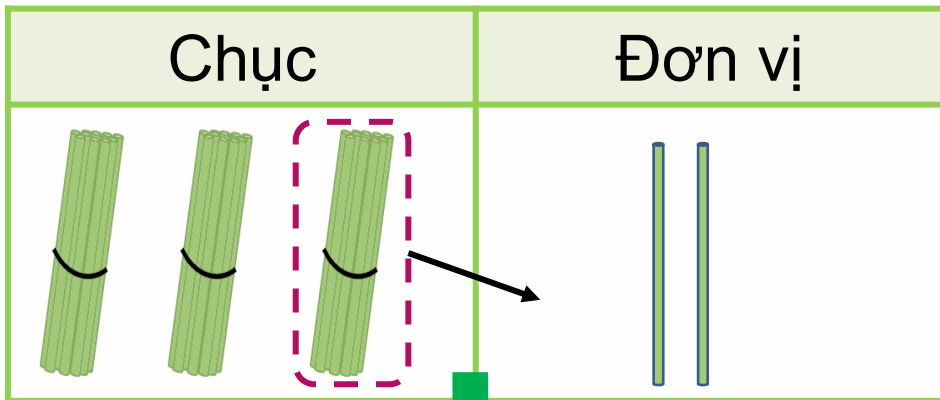






Khám phá

$$32 - 7 = ?$$



Có 32 quả  
dưa hấu và bơ.

Có 7 quả dưa hấu.

Vậy có bao nhiêu  
quả bơ?



32

    
- 7  
  

25

- 2 không trừ được 7, lấy 12 trừ 7 bằng 5, viết 5, nhớ 1
- 3 trừ 1 bằng 2, viết 2

$$35 - 7 = 25$$

# HỌẠT ĐỘNG





1 Tính.

$$\begin{array}{r} 42 \\ - 8 \\ \hline \end{array}$$

$$\begin{array}{r} 56 \\ - 9 \\ \hline \end{array}$$

$$\begin{array}{r} 60 \\ - 5 \\ \hline \end{array}$$

$$\begin{array}{r} 75 \\ - 6 \\ \hline \end{array}$$

$$42 - 8$$

$$\begin{array}{r} 42 \\ - 8 \\ \hline 34 \end{array}$$

Nháp

$$12 - 8 = 4$$

○ **Mượn 1**

$$56 - 9$$

$$\begin{array}{r} 56 \\ - 9 \\ \hline 47 \end{array}$$

Nháp

$$16 - 9 = 7$$

○ **Mượn 1**

$$60 - 5$$

$$\begin{array}{r} 60 \\ - 5 \\ \hline 55 \end{array}$$

Nháp

$$10 - 5 = 5$$

○ **MU'Ợ'N 1**

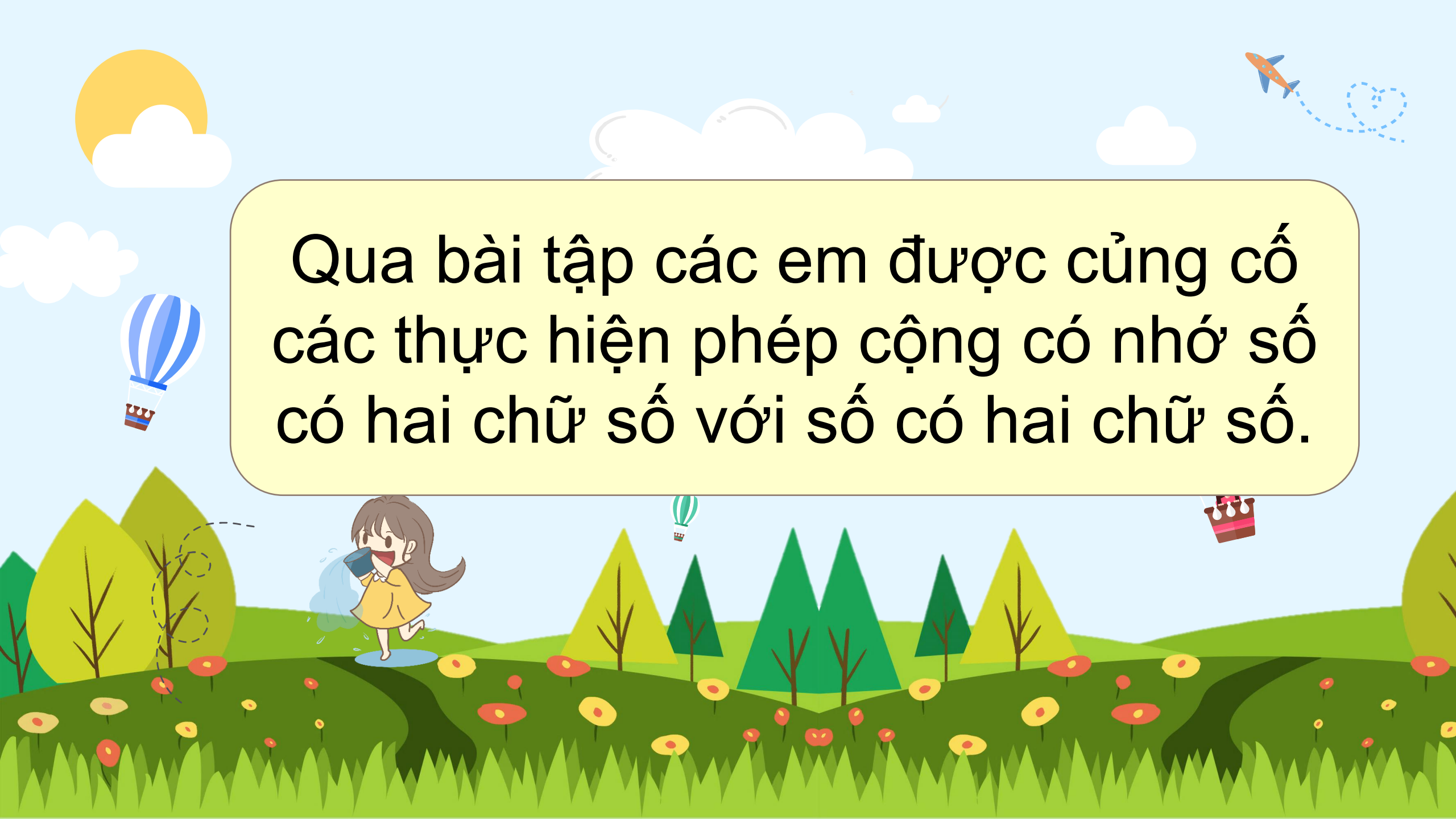
$$75 - 6$$

$$\begin{array}{r} 75 \\ - 6 \\ \hline 69 \end{array}$$

Nháp

$$15 - 6 = 9$$

○ **MU'Ợ'N 1**



Qua bài tập các em được củng cố các thực hiện phép cộng có nhớ số có hai chữ số với số có hai chữ số.

2 Đặt tính rồi tính.

$64 - 8$

$70 - 7$

$83 - 4$

$41 - 5$

$$\begin{array}{r} 64 \\ - 8 \\ \hline \square \end{array}$$



$$\begin{array}{r} 70 \\ - 7 \\ \hline \square \end{array}$$



$$\begin{array}{r} 83 \\ - 4 \\ \hline \square \end{array}$$



$$\begin{array}{r} 41 \\ - 5 \\ \hline \square \end{array}$$



Lưu ý: Giáo viên nhập trực tiếp kết quả phép tính vào slide khi đang trình chiếu



- 3 Ngày thứ nhất, Mai An Tiêm thả 34 quả dưa hấu xuống biển.  
Ngày thứ hai, Mai An Tiêm thả ít hơn ngày thứ nhất 7 quả.  
Hỏi ngày thứ hai Mai An Tiêm thả bao nhiêu quả dưa hấu xuống biển?




Bài toán  
hỏi gì?



Ngày thứ 1: 34 quả dưa hấu



Ngày thứ 2: Ít hơn ngày t1 7 quả



Ngày thứ 2, Mai An Tiêm  
thả được bao nhiêu quả  
dưa hấu?



$$34 - 7 = ?$$




## *Bài giải*

Ngày thứ hai Mai An Tiêm thả số quả dưa hấu xuống biển là:

$$34 - 7 = 27 \text{ (quả)}$$

Đáp số: 27 quả dưa hấu.



Qua bài tập các em củng cố phép trừ có nhớ vào bài toán giải có lời văn cụ thể.

VẬN  
DỤNG





**PLAY**



Xin chào các bạn, mình là Mai. Hôm nay mẹ mình đi vắng, mình phải ở nhà giúp mẹ thu hoạch trứng gà. Các bạn hãy giúp mình thu hoạch xong trước khi mẹ về nhé bằng cách trả lời đúng những câu hỏi trong mỗi quả trứng.





$$\begin{array}{r} 61 \\ - 8 \\ \hline ?? \end{array}$$


53





$$\begin{array}{r} 56 \\ - 7 \\ \hline ?? \end{array}$$

49





$$41 - 6 = ?$$



35





Để có thể làm tốt các bài tập  
trên em được yêu cầu gì?



**CHÚC CÁC EM  
HỌC TỐT!**

